


## NESNE GRAFİĞİ ÇALIŞMAMIZ

Okulumuz kütüphanesinde 15 hikâye kitabı, 18 tane boyama kitabı, 9 tane de çalışma kitabı vardır. Okulumuz kütüphanesindeki kitapların nesne grafiğini çiziniz.

Grafiği çizerken  şeklini kullanınız. Grafiği oluştururken her şekil 3 kitabı gösterecektir.


Aşağıdaki soruları grafiğe göre cevaplayınız.

1- Boyama kitabı, çalışma kitabından kaç fazladır? .....

2- Kütüphanede toplam kaç kitap vardır? .....

Kalemlikte 20 tane kırmızı kalem, 15 tane mavi kalem, 10 tane sarı, 25 tane de siyah kalem vardır. Kalemlikteki renkli kalemleri gösteren nesne grafiğini çiziniz.

Grafiği çizerken + şeklini kullanınız. Grafiği oluştururken her şekil 5 kalemi gösterecektir.


Aşağıdaki soruları grafiğe göre cevaplayınız.

1- Kalemlikteki kırmızı kalem ve mavi kalemlerin toplamı kaçtır? .....

2- Kırmızı kalemlerin sayısı, sarı kalemlerden kaç fazladır? .....





3- Kalemlikte toplam kaç kalem vardır? .....

Bir otobüste 21 kadın yolcu, 15 erkek yolcu ve 9 tanede çocuk yolcu bulunmaktadır. Otobüste buluna yolcuları gösteren nesne grafiğini çiziniz.

Grafiği çizerken 😊 şeklini kullanınız. Grafiği oluştururken her şekil 3 kalemi gösterecektir.


Aşağıdaki soruları grafiğe göre cevaplayınız.

- 1- Erkek yolcu sayısı, çocuk yolcu sayısından kaç fazladır? .....
- 2- Otobüste toplam kaç yolcu vardır? .....

Kız Öğrenciler	    
Erkek Öğrenciler	  
Her şekil 4 öğrenciyi göstermektedir.	

Yukarıdaki grafikte bir sınıfta bulunan öğrenciler gösterilmiştir. Aşağıdaki soruları yukarıdaki grafiğe göre cevaplayınız.

- 1- Sınıfta kaç kız öğrenci vardır?  
A ) 16 B ) 20 C ) 24
- 2- Sınıfta kaç erkek öğrenci vardır?  
A ) 12 B ) 10 C ) 16
- 3- Kız öğrenciler, erkek öğrencilerden kaç fazladır?  
A ) 6 B ) 7 C ) 8

Çözümü bu kutucuğa yapınız.

- 4- Bu sınıfta kaç öğrenci vardır?
- 5- A ) 31 B ) 32 C ) 30

Çözümü bu kutucuğa yapınız.